




Zem vo vesmíre







Vypracovala: Kvetoslava Sokolová

Čo všetko patrí do našej galaxie? Napíš alebo nakresli!



Popíš fázy mesiaca a zakresli ich!

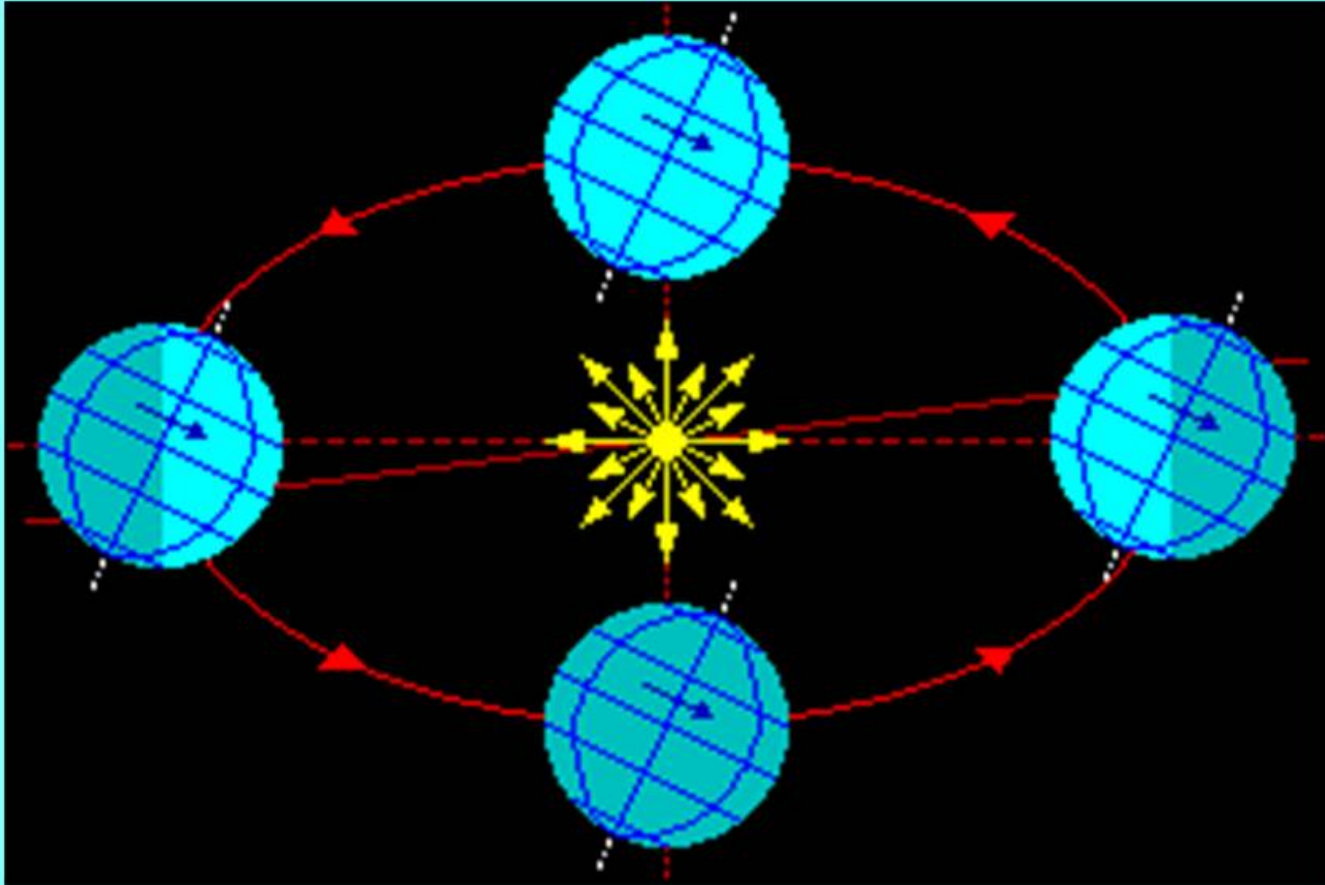


Zem sa otočí okolo za .. hodín.
Za ten čas sa vystrieda . . . a . . .

Dokresli SLNKO a popíš tento pohyb Zeme!



Zem sa otočí okolo za . . . dní a . . . dňa.
Za tento čas sa vystriedajú
Vysvetli na obrázku tento pohyb Zeme!



K daným dňom pripíš názvy podľa dĺžky dňa a noci.
Popíš ich vlastnosti.

21.MAREC

22.JÚN

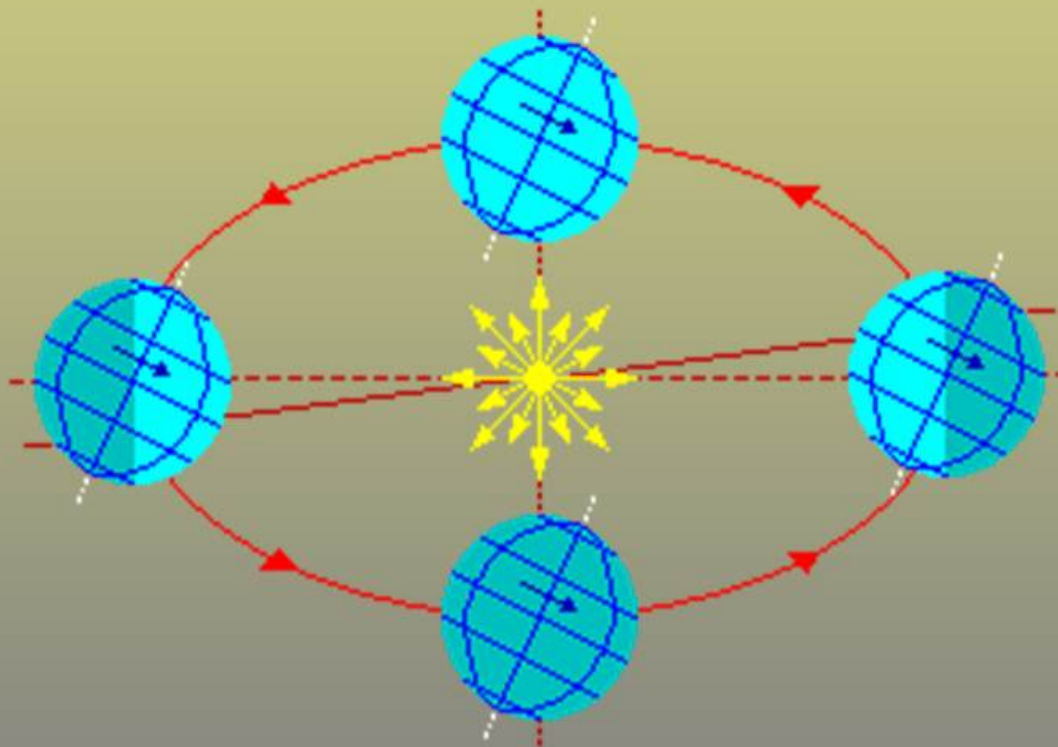
23.SEPTEMBER

22.DECEMBER



Ako sa nazýva obdobie, keď v polárnych oblastiach slnko vôbec nevychádza alebo nezapadá?

Popíš takúto situáciu na obrázku a pomenuj dni a noci





Ak je u nás zima, aké ročné obdobie má:

Madagaskar

jar

Kuba

Juž. Amerika

leto

Aljaška

Japonsko

jeseň

Antarktída

Cejlon

zima



Na Slovensku je jeseň, slnko svieti kolmo na
. . . aké ročné obdobie má:

Grónsko
USA
Madagaskar
Arktída
Brazília
Egypt



Keďže ste to hravo zvládli za odmenu jeden krásny obrázok polárnej žiary.



Použité obrázky: [www. google. sk](http://www.google.sk)